

# SOLUCIONES DE AYER MIÉRCOLES

CUADERNILLO DE LENGUA.

Página 39


Ortografía

Act. 1. Completar: **cabra** / **blanco** / **brincar** / **diciembre** / **nublado** / **cable** / **blando** / **broma**

Act. 2. Escribir:

- **combustible** / **sombrilla** / **poblado** / **candelabro**
- **Respuesta libre**

LIBRO DE MATEMÁTICAS PÁGINA 65

**TALLER DE LÓGICA**  Unidad 8

### El reloj

1 Dibuja las horas en los relojes.

2


1 5 horas más tarde de las 4 en punto


2 1 hora y cuarto después

3 2 horas y media después

4 1 hora y cuarto después

**Y ahora, series**

2 Pega los relojes para completar la serie.  2



ciento sesenta y cinco | 165

# SOLUCIONES A LOS EJERCICIOS DE INGLÉS

## Reading and Writing

**Test Tip:** Write neatly and clearly.

Look at the pictures. Unscramble the letters and write the words. Look at the example.














Unit 3

Page 134

How is Dan getting to the store?

1. Where is Mark?

2. What instrument does Anna play?

3. What sport does Grace play?



4. What are Kim and Lucy eating for lunch?



5. What is Matt doing?



134

**TAREAS PARA HOY JUEVES 25 DE marzo de 2020 :**

**MATEMÁTICAS:** (LO SUBRAYADO HAY QUE HACERLO OBLIGATORIAMENTE, LO DEMÁS ES OPCIONAL PERO SI LO HACES PRACTICARÁS MUCHO Y APRENDERÁS LAS TABLAS Y LAS HORAS MUY BIEN, LOS SUBRAYADOS AZULES NO SON OBLIGATORIOS PERO SON JUEGOS CON LOS QUE PODRÁS REPASAR LO QUE HAS APRENDIDO).

- TABLAS DE MULTIPLICAR: REPASA Y APRENDE LA TABLA DEL 2 Y DEL 3 SALTEADA.

PUEDES USAR EL LINK PARA PRACTICAR:





<https://www.tablasdemultiplicar.com/>

Y SI TE ATREVES PORQUE TE LA SABES MUY RÁPIDO CON ESTA:




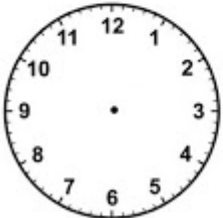
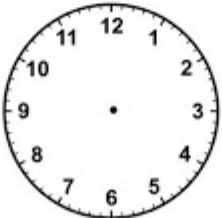

<https://www.tablasdemultiplicar.com/contrarreloj/>

- RELOJES: ANTES DE HACER LA FICHA DEL CUADERNILLO SOBRE RELOJES TE IRÁ BIEN HACER ESTA PARA APRENDER LO MÁS IMPORTANTE.

Relaciona:

	10 : 15	Las seis y cuarto.
	08 : 45	Las diez y cuarto.
	01 : 45	Las dos menos cuarto.
	06 : 15	Las nueve menos cuarto.

Coloca las horas.

		
Las ocho y cuarto.	Las tres en punto.	Las seis y media.
		

- PRACTICA HORAS MINUTOS Y RELOJES CON ESTE JUEGO <https://juegosinfantiles.bosquedefantasias.com/horas-reloj>
- DESPUÉS HAZ LA PÁGINA 26 DEL CUADERNILLO.

## LENGUA:

- PÁGINAS 162 Y 163 DEL LIBRO, SI NO PUEDES ACCEDER A LOS AUDIOS CON EL LIBRO INTERACTIVO EL EJERCICIO 1 Y 2 DE LA PÁGINA 162 NO TIENES QUE HACERLO. O SEA OBLIGATORIOS SOLO LOS EJERCICIOS 3, 4 Y 5.

**(CON ESTOS EJERCICIOS APRENDEMOS A DESCRIBIR ANIMALES SALVAJES, DECIMOS CÓMO SON DE GRANDES, CÓMO TIENEN EL CUERPO, CÓMO SE MUEVEN Y QUÉ COMEN, POR EJEMPLO, SI ELEGIMOS UNA JIRAFÁ PODEMOS DECIR:**

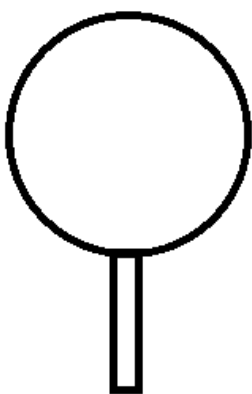
*Voy a describir una jirafa. Es un animal grande y alto. Tiene el cuerpo cubierto de pelo con manchitas, tiene dos cuernecitos en la cabeza. Corre por la sabana y es herbívora.*

**ALGUNAS COSAS LAS PODEMOS VER Y HAY OTRAS INFORMACIONES QUE LA PODEMOS BUSCAR EN LOS LIBROS O EN INTERNET, AQUÍ LO QUE IMPORTAN SON LAS FRASES ESCRITAS.)**

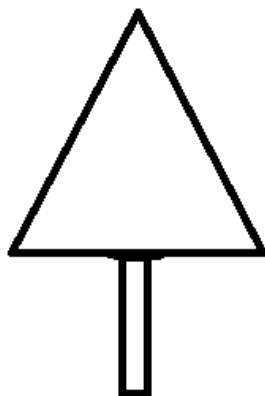
## CIENCIAS SOCIALES:

- APRENDEMOS LAS SEÑALES Y LAS NORMAS DE TRÁFICO: <https://www.youtube.com/watch?v=ivwxf1KxF8U>
- DIBUJA EN TU CUADERNO DE CLASE UNA SEÑAL DE PELIGRO, UNA DE OBLIGACIÓN, UNA INFORMATIVA Y OTRA DE PROHIBICIÓN. DI LO QUE SIGNIFICAN.(RECUERDA PON LA FECHA Y DE TÍTULO "SEÑALES DE TRÁFICO".

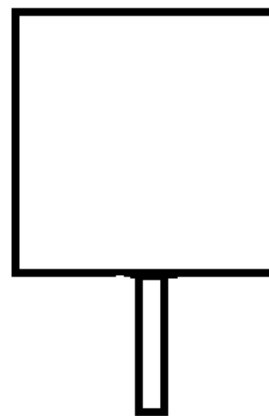
USA LAS FORMAS DE AQUÍ DEBAJO:



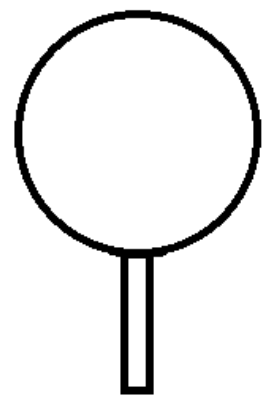
PROHIBIDO



PELIGRO



INFORMACIÓN



OBLIGACIÓN